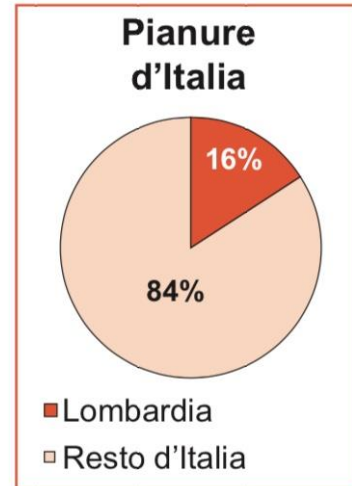
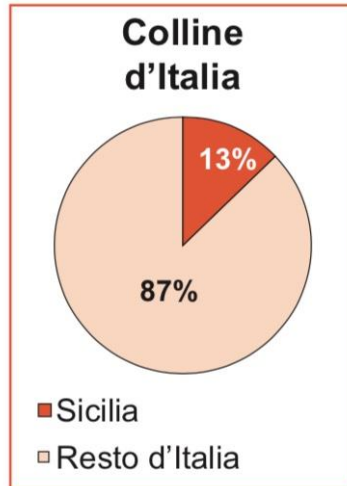
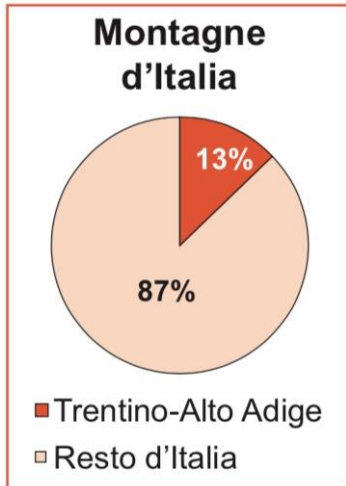


NOME COGNOME

RILIEVI D'ITALIA IN AREOGRAMMI

1 In ogni grafico è rappresentata la regione con la maggior percentuale di superficie occupata rispettivamente da montagne, colline e pianure. **Osserva** i grafici e **rispondi**.



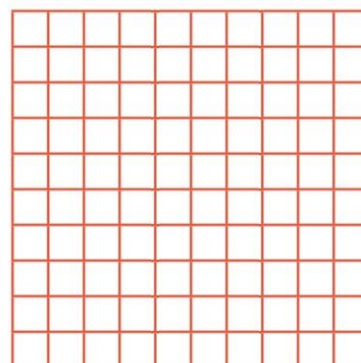
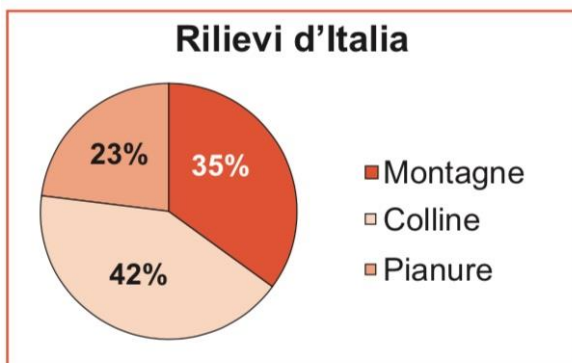
Quale tipo di grafico è utilizzato per rappresentare i dati?

In quale regione c'è la maggior percentuale di pianure?

E di colline? E di montagne?

In che percentuale le pianure italiane sono presenti in Lombardia?

2 **Riporta** i dati dell'areogramma a torta nell'areogramma quadrato, che è diviso in 100 quadratini uguali. **Colora** in marrone i quadratini corrispondenti alle montagne, in giallo quelli corrispondenti alle colline e in verde quelli corrispondenti alle pianure.



Obiettivo **Ricavare informazioni geografiche da tabelle e grafici.**