



Risorse digitali



Alta leggibilità



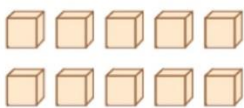

Audiobook



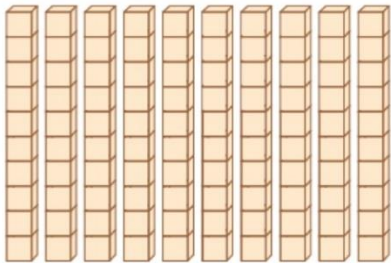

MATEMATICA

IL SISTEMA DECIMALE

1 Raggruppa, colora il pezzo ottenuto con il cambio e completa.


cambio
→


10 unità
 10 unità = decina
 10 u = da


cambio
→




10 decine
 10 decine = centinaio
 10 da = h




HO CAPITO CHE...


Il nostro sistema di numerazione è **decimale** perché le quantità **si raggruppano per dieci**: 10 unità formano 1 decina, 10 decine formano 1 centinaio. Quindi un centinaio corrisponde a 100 unità.

2 Rispondi alle domande, di difficoltà crescente.

Quanti  servono per formare un  ?

Quanti  sono contenuti in un  ?

Quanti  servono per formare un  ?

Quanti  puoi costruire con 20  ?

