


IN UN ARMADIO CI SONO 5 MAGLIETTE, 4 CAMICIE E 6 GONNE.
QUANTI INDUMENTI CI SONO IN TUTTO?

RISOLVO

DISEGNO



OPERAZIONE



RISPOSTA


LUCIA HA 3 BRACCIALETTI ROSA, 6 BLU E 2 GIALLI.
QUANTI BRACCIALETTI HA IN TUTTO?

RISOLVO

DISEGNO



OPERAZIONE



RISPOSTA


IN UN VASO CI SONO 6 TULIPANI, 3 GIRASOLI E 5 ROSE.
QUANTI FIORI CI SONO IN TUTTO?

RISOLVO

DISEGNO



OPERAZIONE



RISPOSTA


SU UN VASSOIO CI SONO 8 PASTICCINI AL CIOCCOLATO, 2 ALLA VANIGLIA E 3 ALLA NOCCIOLA.
QUANTI PASTICCINI CI SONO IN TUTTO?

RISOLVO

DISEGNO



OPERAZIONE



RISPOSTA