

STEFANO AVEVA 13 BIGLIE. IL NONNO  
GLIENE REGALA ALTRE 6.  
QUANTE BIGLIE HA IN TUTTO STEFANO?

**RISOLVO**

DISEGNO



OPERAZIONE




**RISPOSTA**

---

IN UN GIARDINO CI SONO 6 ALBERI. NE  
VENGONO PIANTATI ALTRI 8.  
QUANTI ALBERI CI SONO IN TUTTO?

**RISOLVO**

DISEGNO



OPERAZIONE



**RISPOSTA**

---


IN UNO STAGNO STANNO NUOTANDO 9  
PAPERELLE.  
NE ARRIVANO ALTRE 7.  
QUANTE PAPERELLE CI SONO IN TUTTO?

**RISOLVO**

DISEGNO



OPERAZIONE



**RISPOSTA**

---


IN UN ALVEARE CI SONO 16 API.  
NE ENTRANO ALTRE 4.  
QUANTE API CI SONO IN TUTTO?

**RISOLVO**

DISEGNO



OPERAZIONE



**RISPOSTA**

---