





Luigino sta giocando con i suoi soldatini.
Li schiera su 4 file e in ogni fila mette 5 soldatini.
Quanti sono i soldatini di Luigino?



$$\underline{\quad} \times \underline{\quad} = \underline{\quad}$$

Oppure

$$\underline{\quad} \times \underline{\quad} = \underline{\quad}$$

RISPOSTA

In tutto i soldatini di Luigino sono

In quanti altri modi poteva schierarli?

Disegnali sul tuo quaderno e per ogni schieramento scrivi una moltiplicazione.

Sotto ogni schieramento scrivi le possibili moltiplicazioni

