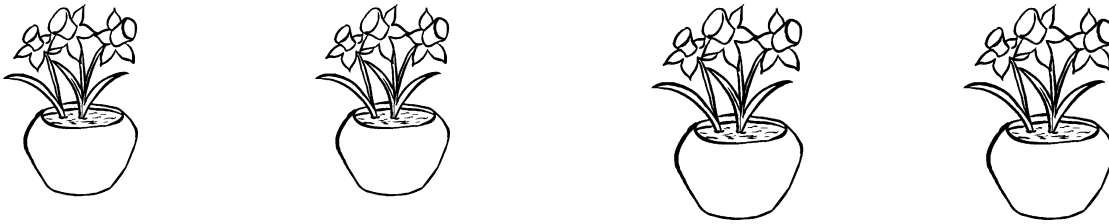


Ci sono 4 vasi.
Ogni vaso contiene 3 fiori.
Quanti sono i fiori in tutto?



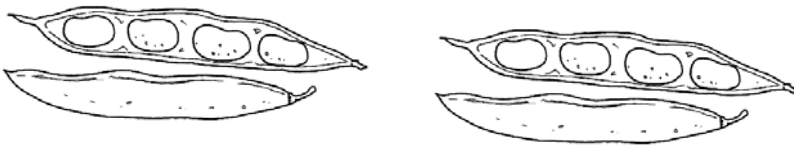
Addizione : $___ + ___ + ___ + ___ = ______$

Quando gli addendi sono tutti uguali posso usare la moltiplicazione.

3 per 4 volte fa

Moltiplicazione: $___ \times ___ = ______$

Ci sono 2 baccelli.
Ogni baccello contiene 4 fagioli
Quanti fagioli ci sono in tutto?



Addizione: $___ + ___ = ______$

Moltiplicazione: $___ \times ___ = ______$


Ci sono 5 tori.
Ogni toro ha 2 corna.
Quante sono le corna in tutto?



Addizione: $___ + ___ + ___ + ___ + ___ = ______$

Moltiplicazione: $___ \times ___ = ______$

Ci sono 3 chitarre.
Ogni chitarra ha 6 corde.
Quante sono le corde in tutto?



Addizione: _____

Moltiplicazione: _____

Ci sono 5 vaschette.
In ogni vaschetta nuotano 3 pesciolini.
Quanti sono il pesciolini in tutto?

Completa il disegno






Addizione: _____

Moltiplicazione: _____

Ci sono 3 sacchi.
In ogni sacco ci sono 5 regali.
Quanti sono i regali in tutto?

Completa il disegno



Addizione: _____


Moltiplicazione: _____

Disegna e risolvi con l'addizione e con la moltiplicazione

Ci sono 5 piatti.

In ogni piatto sono state messe 4 pizzette.

Quante sono le pizzette in tutto?



Addizione: _____

Moltiplicazione: _____

Ci sono 7 torte.

Su ogni torta ci sono 3 candeline.

Quante sono le candeline in tutto?




Addizione: _____

Moltiplicazione: _____

Ci sono 2 nidi.

In ciascun nido ci sono 5 uccellini.

Quanti uccellini ci sono in tutto?



Addizione: _____

Moltiplicazione: _____