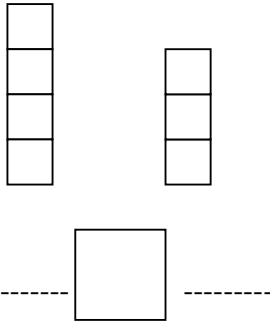
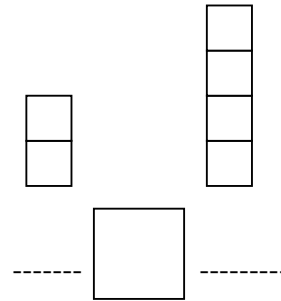


CONTA I CUBETTI E SCRIVI IL NUMERO E IL SIMBOLO MAGGIORE $>$, MINORE $<$
 OPPURE UGUALE $=$.
 POI SCRIVI QUAL E' LA FILA CON PIU' CUBETTI (DESTRA O SINISTRA) E QUANTI NE
 HA IN PIU'



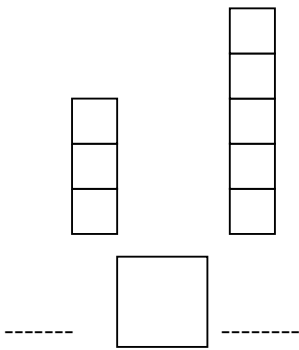
NE HA DI PIU' LA FILA A

QUANTI DI PIU'?



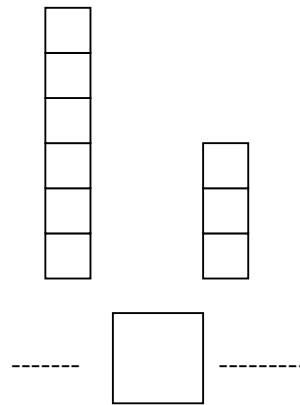
NE HA DI PIU' LA FILA A

QUANTI DI PIU'?



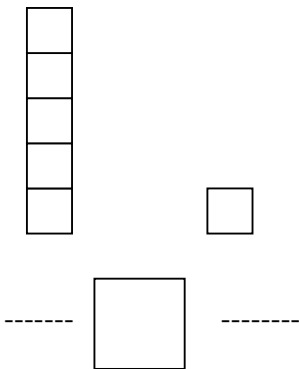
NE HA DI PIU' LA FILA A

QUANTI DI PIU'?



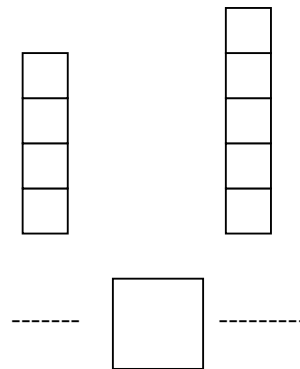
NE HA DI PIU' LA FILA A

QUANTI DI PIU'?



NE HA DI PIU' LA FILA A

QUANTI DI PIU'?



NE HA DI PIU' LA FILA A

QUANTI DI PIU'?