

IN UN VASO CI SONO 18 FIORI.
7 VENGONO TOLTI PERCHE APPASSISCONO.
QUANTI CONIGLIETTI RIMANGONO?

RISOLVO

DISEGNO



OPERAZIONE



RISPOSTA


UN CLOWN HA 17 PALLONCINI. NE
REGALA 8 AD ALCUNI BAMBINI
QUANTI PALLONCINI RIMANGONO AL
CLOWN?

RISOLVO

DISEGNO



OPERAZIONE



RISPOSTA


NEL PARCHEGGIO DELLA SCUOLA CI SONO
15 MACCHINE.
DOPO UN'ORA NE PARTONO 6.
QUANTE MACCHINE RIMANGONO?

RISOLVO

DISEGNO



OPERAZIONE



RISPOSTA


SU UN ALBERO CI SONO 13 SCIMMIETTE.
5 SALTANO GIU'.
QUANTE SCIMMIETTE RIMANGONO
SULL'ALBERO?

RISOLVO

DISEGNO



OPERAZIONE



RISPOSTA
