



IN UN RECINTO CI SONO 18 CAPRETTE.  
6 CAPRETTE SONO NERE E LE ALTRE SONO  
BIANCHE.  
QUANTE SONO LE CAPRETTE BIANCHE?

**RISOLVO**

DISEGNO



OPERAZIONE



**RISPOSTA**


---

---


MARCO STA METTENDO IN ORDINE LE SUE  
20 MACCHININE MA SI ACCORGE CHE 5  
SONO ROTTE.  
QUANTE SONO LE MACCHININE CHE NON  
SONO ROTTE?

**RISOLVO**

DISEGNO



OPERAZIONE



**RISPOSTA**


---

---


ANGELICA HA 17 BRACCIALETTI.  
9 BRACCIALETTI SONO ROSA E GLI ALTRI  
AZZURRI.  
QUANTI SONO I BRACCIALETTI AZZURRI?

**RISOLVO**

DISEGNO



OPERAZIONE



**RISPOSTA**


---

---


NELLA CLASSE DI MASSIMO CI SONO 19  
BAMBINI.  
7 BAMBINI STANNO SCRIVENDO E GLI  
ALTRI STANNO LEGGENDO.  
QUANTI SONO I BAMBINI CHE STANNO  
LEGGENDO?

**RISOLVO**

DISEGNO



OPERAZIONE



**RISPOSTA**

---

---