

Esercizi

1. Esegui in colonna sul quaderno:

$$24 + 39 = \quad 57 + 30 = \quad 8 + 23 + 46 = \quad 53 - 7 + 16 =$$

$$9 - 36 + 43 = \quad 55 - 4 - 27 = \quad 31 + 44 = \quad 32 + 9 + 25 =$$

2. Esegui in colonna sul quaderno:

$$47 - 34 = \quad 52 - 39 = \quad 66 - 59 = \quad 85 - 47 = \quad 88 - 9 =$$

$$60 - 34 = \quad 82 - 51 = \quad 93 - 29 = \quad 71 - 56 = \quad 83 - 28 =$$

3. Esegui in colonna le seguenti operazioni:

$$32 + 44 = \quad 33 + 27 + 6 = \quad 33 + 48 + 9 = \quad 36 + 37 + 8 =$$

$$55 - 26 = \quad 73 - 42 = \quad 56 - 29 = \quad 90 - 45 = \quad 72 - 51 =$$

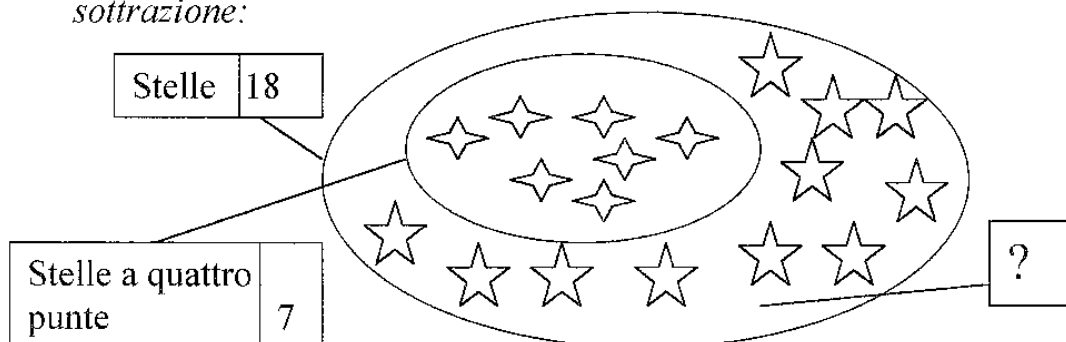
4. Numeri per 5 da 0 a 100.

5. Numeri per 2 da 95 a 1.

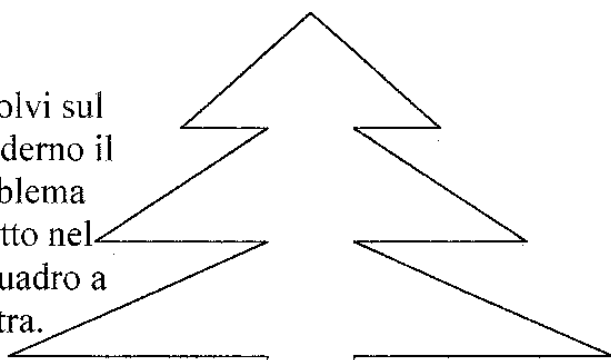
6. Inventi un problema con questa operazione: $32 + 48$ e risolvo con i dati, la richiesta, l'operazione in riga (ed in colonna) e la risposta.

7. Inventi un problema con questa operazione: $53 - 27$ e risolvo seguendo le indicazioni dell'esercizio precedente.

8. Osserva questo diagramma ed inventa un problema con la sottrazione:

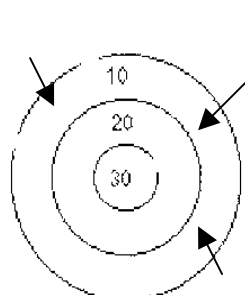


9. Risolvi sul quaderno il problema scritto nel riquadro a destra.

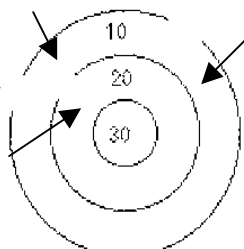


Per addobbare un pino sono state appese 24 palline colorate; se 8 di esse sono rosse, quante palline **non** sono rosse? Disegna sul pino le palline.

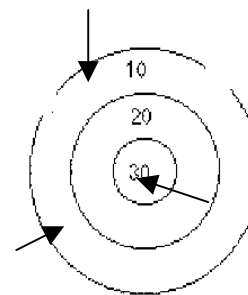
10. Giochiamo a freccette. Calcola il totale dei punti segnati da ciascun bambino, Chi ha ottenuto il punteggio maggiore?
 Chi quello minore?



Stefano



Marta



Ernesto

..... + + =

..... + + =

..... + + =

11. Esegui in riga (se i calcoli ti sono difficili puoi eseguirle in colonna).

$40 \div 10 + 10 =$ $30 + 20 + 10 =$ $20 + 20 + 20 =$

$30 + 20 + 10 =$ $40 + 30 + 20 =$ $30 - 20 + 40 =$

12. Completa con un numero che va bene:

$14 > \square$; $35 < \square$; $40 > \square$; $20 + 10 < \square$;

$63 < \square < \square$; $20 < \square < \square$; $\square > \square > 13$

13. Osserva i primi 12 numeri estratti dal sacchetto della tombola

- 45 34 63 90 15 48
- 19 72 51 42 24 40

Completa con i numeri adatti:

- 1) Sono maggiori di 40:
- 2) Sono minori di 24:
- 3) Sono maggiori di 48 e minori di 90:
- 4) Hanno la cifra 4 al posto delle decine:
- 5) Sono pari: