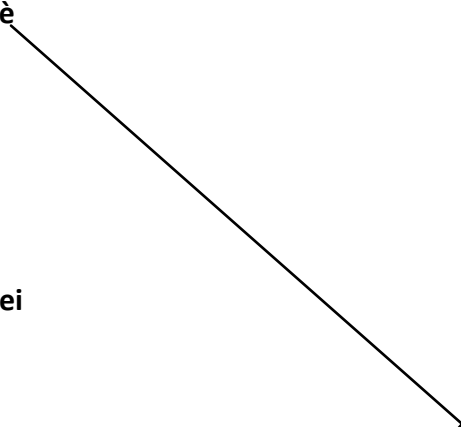


1- Collega ogni parola al numero in cifre corrispondente.

Sessanta	91
Settantadue	18
Ventisette	27
Quarantatrè	19
Diciotto	56
Novantuno	5
Diciannove	12
Cinquantasei	60
Cinque	72
Dodici	43



2- Componi

7 u = 7	2 da e 0 u = 20	6 da =	4 u e 8 da =
2 da e 3 u =	12 u =	9 da =	1 da e 8 u =

3- Scomponi

27 = 2 da e 7 u	38 =	45 =	50 =
7 = 7 u	77 =	81 =	70 =

4- Rappresenta sull'abaco i seguenti numeri:

54 45 73 47 90

da	u	da	u	da	u	da	u	da	u

5- Esegui in colonna le addizioni.

$23 + 34 =$

$31 + 30 =$

$54 + 27 =$

$59 + 37 =$

$20 + 15 =$

$72 + 18 =$

$63 + 26 =$

$27 + 19 =$

$40 + 26 =$

$35 + 42 =$

da	u

+

=

da	u

+

=

da	u

+

=

da	u

+

=

da	u

+

=

da	u

+

=

da	u

+

=

da	u

+

=

da	u

+

=

da	u

+

=

6- Esegui in colonna le sottrazioni

$34 - 23 =$

$56 - 24 =$

$74 - 21 =$

$89 - 45 =$

$88 - 54 =$

$56 - 38 =$

$71 - 14 =$

$56 - 27 =$

$92 - 36 =$

$70 - 45 =$

da	u

-

=

da	u

-

=

da	u

-

=

da	u

-

=

da	u

-

=

da	u

-

=

da	u

-

=

da	u

-

=

da	u

-

=

da	u

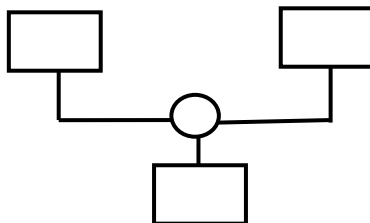
-

=

7- *Leggi, sottolinea i dati e la domanda, e, quindi, risolvi i problemi con il diagramma.*

- Per confezionare le meringhe il pasticciere usa 13 uova. Poi per i bignè ne usa altre 10.

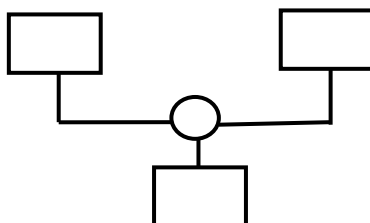
Quante uova ha usato in tutto?



Risposta:.....

- Nella biblioteca scolastica c'erano 27 libri. Gli alunni ne hanno presi 9.

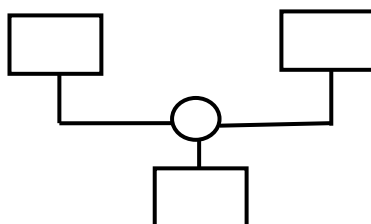
Quanti libri sono rimasti nella biblioteca?



Risposta:.....

- In un vassoio ci sono 24 frittelle. Luca ed i suoi amici ne mangiano 14.

Quante frittelle ci sono ora nel vassoio?



Risposta:.....