





Alunno : \_\_\_\_\_

Data : \_\_\_\_\_

domanda 1

**1. Simone ha comperato una videocassetta al prezzo di 13 euro. Ha pagato con un biglietto da 50 euro.**

**Quale tra i seguenti è il suo resto?**

A <input type="radio"/>		
B <input type="radio"/>		
C <input type="radio"/>		
D <input type="radio"/>		

domanda 2

**2. La nonna di Elisa ha 68 anni e Elisa ne ha 8.**


**Con quale operazione trovi quanti anni di più di Elisa ha la sua nonna?**

A <input type="radio"/>	$68 - 8$
B <input type="radio"/>	$68 + 8$
C <input type="radio"/>	$8 + 68$
D <input type="radio"/>	$68 \times 8$

domanda 3

**3. Rosanna ha attaccato i suoi adesivi su un cartoncino grigio ed ha ottenuto il seguente disegno.**

**Di che forma erano gli adesivi che ha usato e quanti erano?**



A <input type="radio"/>	4 triangoli, 1 rettangolo, 2 esagoni.
B <input type="radio"/>	4 triangoli, 4 trapezi, 1 rettangolo.
C <input type="radio"/>	8 triangoli, 1 rettangolo.
D <input type="radio"/>	6 triangoli, 1 rettangolo.