


Alunno : _____


Data : _____

D9. Tre bambini misurano la stessa matita.


Fabio misura così e dice: “La matita è lunga 16 centimetri”.



Mattia misura così e dice: “La matita è lunga 15 centimetri”.



Riccardo misura così e dice: “La matita è lunga 14 centimetri”.



Chi ha misurato in modo corretto la lunghezza?

- A. Fabio
- B. Mattia
- C. Riccardo