

**D16. Quale, tra queste figure, corrisponde alla seguente descrizione?
 “È UN QUADRATO DENTRO UN CERCHIO”**

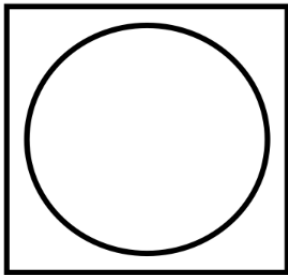


Figura 1

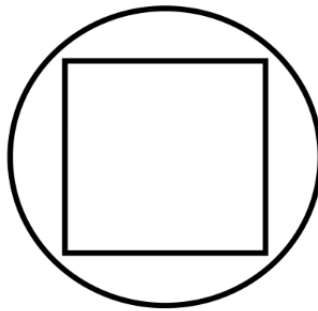


Figura 2

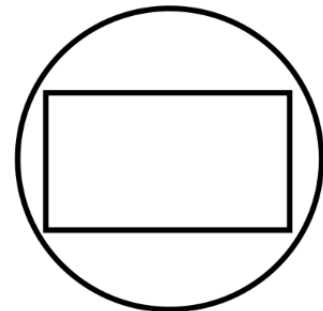


Figura 3

- A. Figura 1
- B. Figura 2
- C. Figura 3

D17. Osserva il riquadro:

$12 \times 3 = 12 + 12 + 12$

Quello che è scritto nel riquadro è corretto?

- A. No, perché il risultato di 12×3 non è 12
- B. Sì, perché moltiplicare 12 per 3 è come sommare 12 tre volte
- C. No, perché da una parte c'è il segno \times e dall'altra il segno $+$