
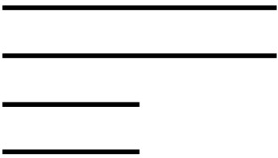



Alunno: \_\_\_\_\_

Data: \_\_\_\_\_

**D22. Osserva questi gruppi di bastoncini.**

		
Gruppo A	Gruppo B	Gruppo C

**Con quale gruppo puoi costruire un rettangolo?**

**Risposta:** Gruppo .....