

Alunno : _____

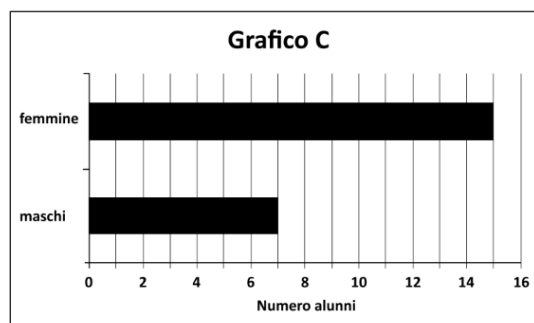
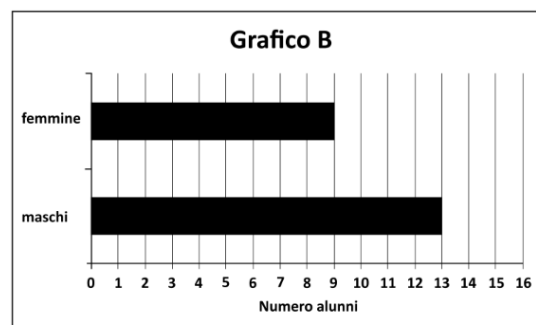
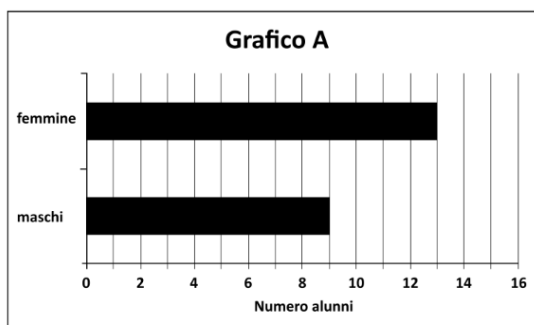
ata : _____

D13. In una gara di corsa Simone è arrivato terzo e Roberto è arrivato sesto.

Quanti bambini sono arrivati dopo Simone e prima di Roberto?

Risposta: bambini

D14. Osserva questi grafici.



Quale grafico rappresenta una classe formata da 9 maschi e 13 femmine?

- A. Grafico A
- B. Grafico B
- C. Grafico C