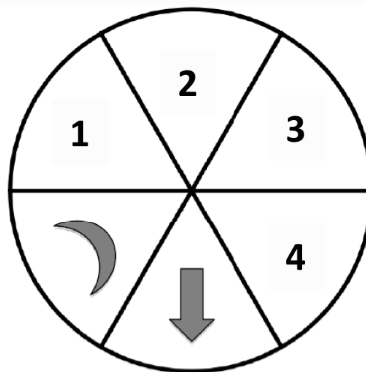





D18. Osserva questa ruota.



Matteo la fa girare e ora la freccia e la luna si trovano in questa posizione.



a. Cosa c'è adesso nella posizione 4?

- A. Il simbolo 
- B. Il simbolo 
- C. Il simbolo 

b. Dove si trova adesso il simbolo  ?

- A. Nella posizione **1**
- B. Nella posizione **2**
- C. Nella posizione **4**