










Alunno : _____

Data : _____

D10. Nella mensa della scuola la cuoca registra su un cartellone le mele mangiate in tre giorni.

	rappresenta 10 mele
---	----------------------------

Osserva il cartellone:

Lunedì				
Martedì				
Mercoledì				

Quante sono le mele mangiate nei tre giorni?

- A. 9
- B. 30
- C. 90