




Alunno : \_\_\_\_\_

Data: \_\_\_\_\_

5. In quale casella si trova il gatto?

H								
G								
F								
E								
D								
C								
B								
A								
	1	2	3	4	5	6	7	8

- A. 8, H
- B. 4, D
- C. 2, A

6. Quale numero è il doppio di 8?

- A. 16
- B. 14
- C. 4