




Alunno : _____

Data : _____

7. Quale numero corrisponde a 2 decine?

- A. 2
- B. 12
- C. 20

8. Chi si trova nella casella: 2, E ?

E					
D					
C					
B					
A					
	1	2	3	4	5

- A. La chiocciola.
- B. La papera.
- C. Il topolino.