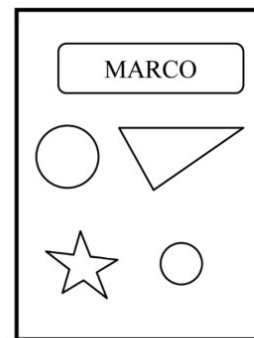
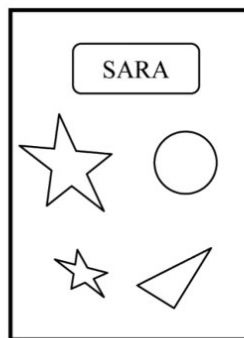



Alunno : _____

Data : _____

3. Elena, Sara e Marco hanno messo degli adesivi sui loro quaderni.



Quale bambino ha incollato due cerchi, un triangolo ed una stellina?

- A. Marco.
- B. Sara.
- C. Elena.

4. Quale operazione è stata eseguita?

$$22 ? 2 = 20$$

- A. Addizione.
- B. Sottrazione.
- C. Somma.