




Alunno : _____

Data : _____

12. In quale casella si trova il cavallo?

<i>E</i>					
<i>D</i>					
<i>C</i>					
<i>B</i>					
<i>A</i>					
	<i>1</i>	<i>2</i>	<i>3</i>	<i>4</i>	<i>5</i>

- A. 2, C
- B. 4, E
- C. 3, B

13. Quale tra le operazioni seguenti ha lo stesso risultato di $7 + 7$?

- A. $6 + 6$
- B. $9 + 6$
- C. $15 - 1$