





Alunno : _____

Data : _____

1. La tabella rappresenta gli sport preferiti dagli alunni e dalle alunne di una classe.

Nuoto	
Calcio	
Basket	
Pallavolo	

Quanti sono, in tutto, gli alunni maschi di quella classe?

- A. 7
- B. 11
- C. 22

2. Quale numero corrisponde a 1 decina e 3 unità?

- A. 31
- B. 30
- C. 13