




Alunno : _____

Data : _____

3. In quale casella si trova il cubo?

E					
D					
C					
B					
A					
	1	2	3	4	5

A. 2, B

B. 4, A

C. 2, D

4. Giorgio ha 42 figurine. Daniela ne ha 28. Quante figurine mancano a Daniela per averne quante Giorgio?

A. 14

B. 24

C. 70