


Alunno: _____



Data: _____

1. Gigi entra a scuola alle ore 8 ed esce alle 12. Quanto dura la mattinata scolastica di Gigi?

- A. 6 ore.
 - B. 5 ore.
 - C. 4 ore.
-

2. Quale adesivo ha messo Carlo sul quaderno?



- A. 
- B. 
- C. 